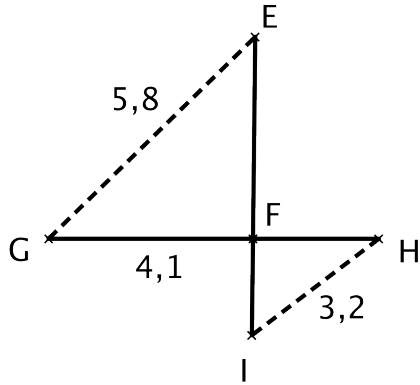


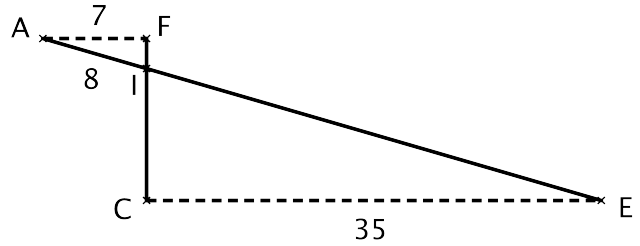
Fiche n°5 d'exercices: le théorème de Thalès en configuration papillon

Les segments en pointillés sont parallèles. Les figures ne sont pas en vraie grandeur.

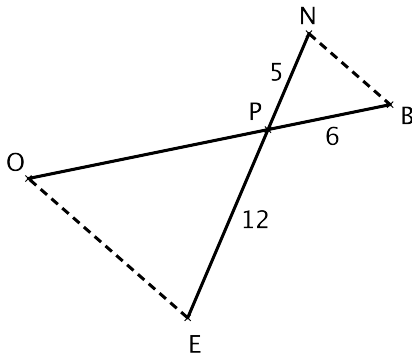
Utiliser le théorème de Thalès et calculer les longueurs demandées.



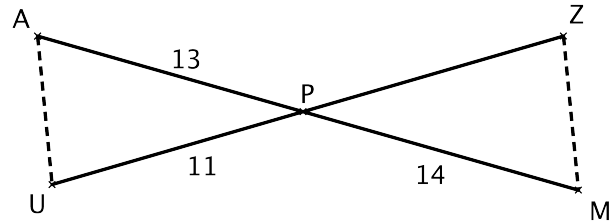
Calculer FH.



Calculer IE.



Calculer OB.

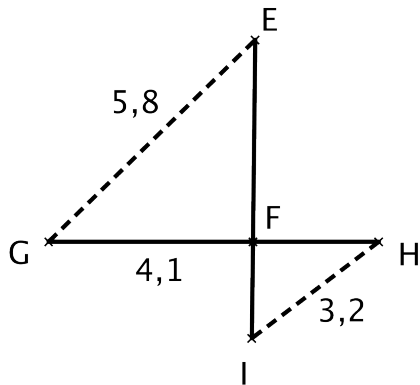


Calculer PZ.

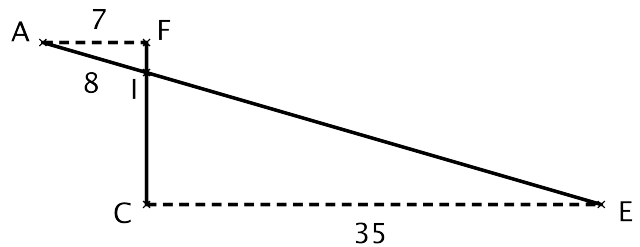
Fiche n°5 d'exercices: le théorème de Thalès en configuration papillon

Les segments en pointillés sont parallèles. Les figures ne sont pas en vraie grandeur.

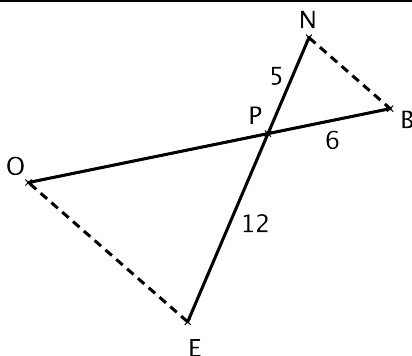
Utiliser le théorème de Thalès et calculer les longueurs demandées.



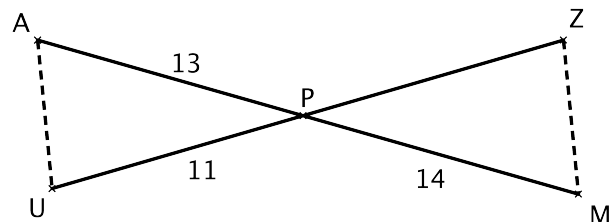
Calculer FH.



Calculer IE.



Calculer OB.



Calculer PZ.