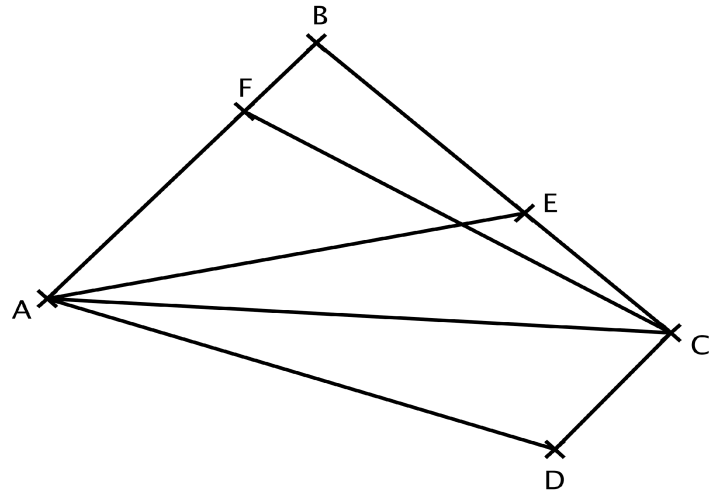


Fiche d'exercices: nommer, coder et comparer des angles

EXERCICE 1:

angle	sommet	côtés de l'angle	nature
\widehat{AFC}			
\widehat{AEB}			
\widehat{EAC}			
\widehat{ACD}			
\widehat{CAD}			
\widehat{EBF}			



Coder les angles cités dans le tableau.

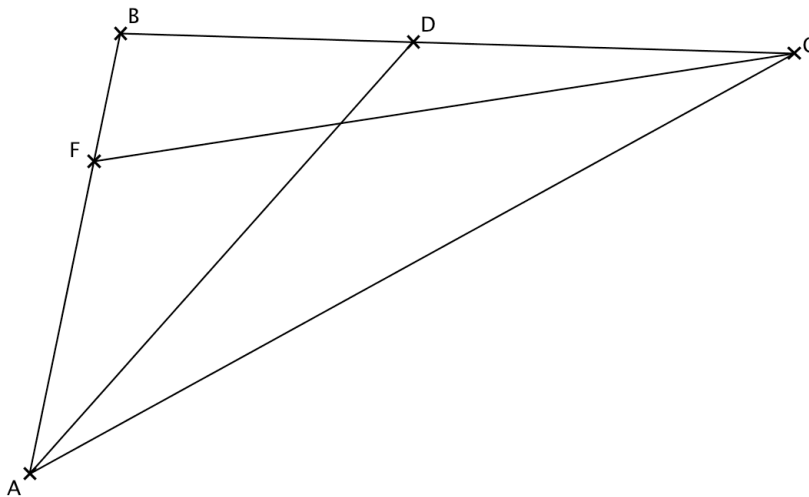
EXERCICE 2:

Repasser en bleu les côtés de l'angle \widehat{FBD} , en vert ceux de \widehat{DAF} et en rouge ceux de \widehat{FCA} .

Coder en bleu l'angle \widehat{FBD} , en vert l'angle \widehat{DAF} et en rouge l'angle \widehat{FCA} .

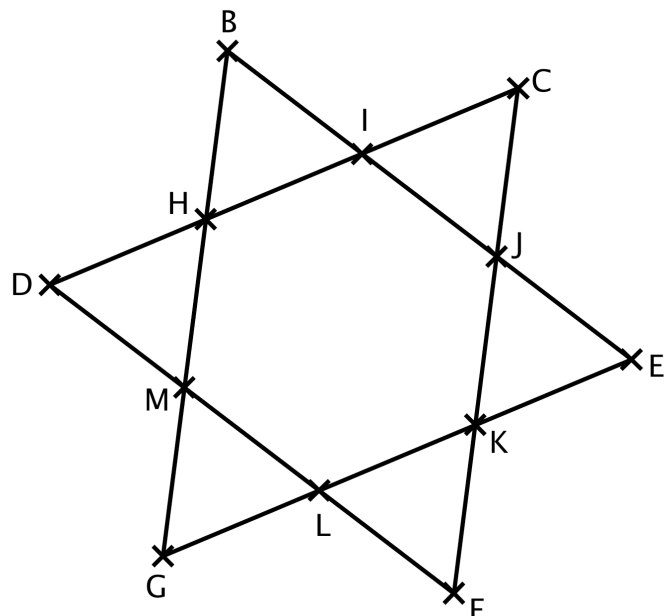
Donner **leur nature** (aigu, obtus, droit, plat...).

Nommer un angle plat.



EXERCICE 3:

Angle	Sommet	Côtés de l'angle	nature
		[HD] et [HB]	
\widehat{DMG}			
		[LK] et [KF]	
\widehat{IJK}			
		[CJ] et [IC]	



Coder les angles cités dans le tableau.