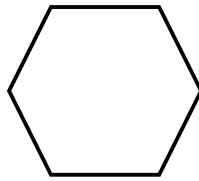


LA FRACTION DU JOUR

Est-ce un nombre décimal ?

OUI

NON

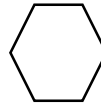


Représente-la en partageant et en coloriant :



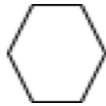
Ecris-la en lettres :

Compare-la à 1 :

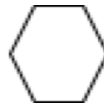


1

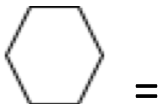
Encadre-la entre deux entiers consécutifs :



Décompose-la en somme d'un entier et d'une fraction inférieure à 1 :



Peut-on la simplifier ?



Donne :

sa valeur exacte décimale :

OU

une valeur approchée au dixième :

Ajoute lui 2 :

Multiplie-la par 3 :

Place-la sur cet axe gradué après avoir placé l'unité :

